

Ecken, Kanten, Flächen

Geometrische Körper bauen



Aufgaben:

1. Fülle die Lücken in den Texten aus:

Ein **WÜRFEL** hat Ecken.
 Er hat Kanten.
 Er hat Flächen.
 Seine Flächen sind .

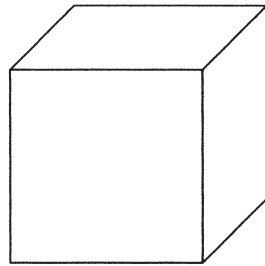
Ein **QUADER** hat Ecken.
 Er hat Kanten.
 Er hat Flächen.
 Mindestens Flächen sind .

2. Welcher Steckbrief passt zu welchem Körper? Verbinde!

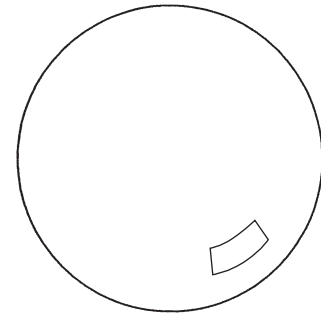
Beispiel:

WÜRFEL

Ecken: 8
 Kanten: 12
 Flächen: 6

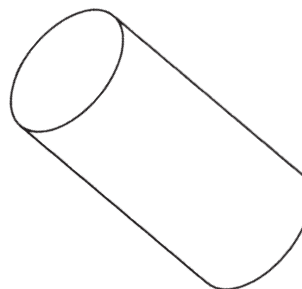



Ecken: 0
 Kanten: 0
 Flächen: 1



Ecken: 0
 Kanten: 2
 Flächen: 3

Ecken: 8
 Kanten: 12
 Flächen: 6



Ecken: 1
 Kanten: 1
 Flächen: 2

Ecken: 5
 Kanten: 8
 Flächen: 5

